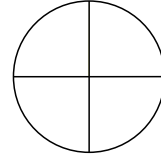
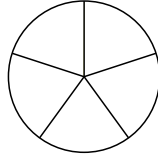
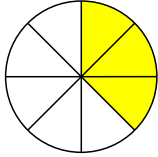


1 Brüche: Zeichne und schreibe die Brüche auf.




 / 6

zwei Fünftel


$\frac{3}{4}$

2 Ein kleiner Garten soll einen Zaun bekommen. Er ist 9,3m lang und 44dm lang. Wie lange muss der Zaun sein?



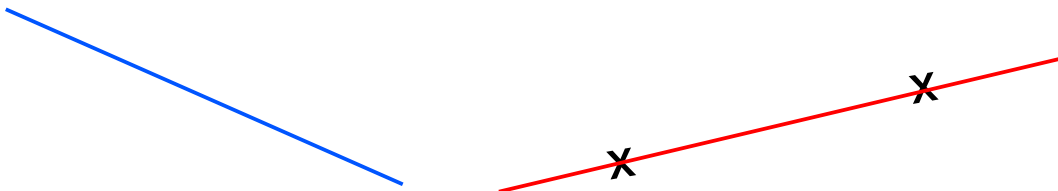
 / 4

3 Addiere die Zahlen 4Z 3ZT 5E 6T mit 222. Multipliziere das Ergebnis mit 2. Welche Zahl erhältst du?



 / 5

4 Zeichne zur blauen Linie zwei parallele Linien. Bei der roten Linie sollst du rechte Winkel einzeichnen, die durch die markierten Punkte gehen.



 / 4

Unterschrift: _____

Punkte:

 / 19