


Zwickzwick

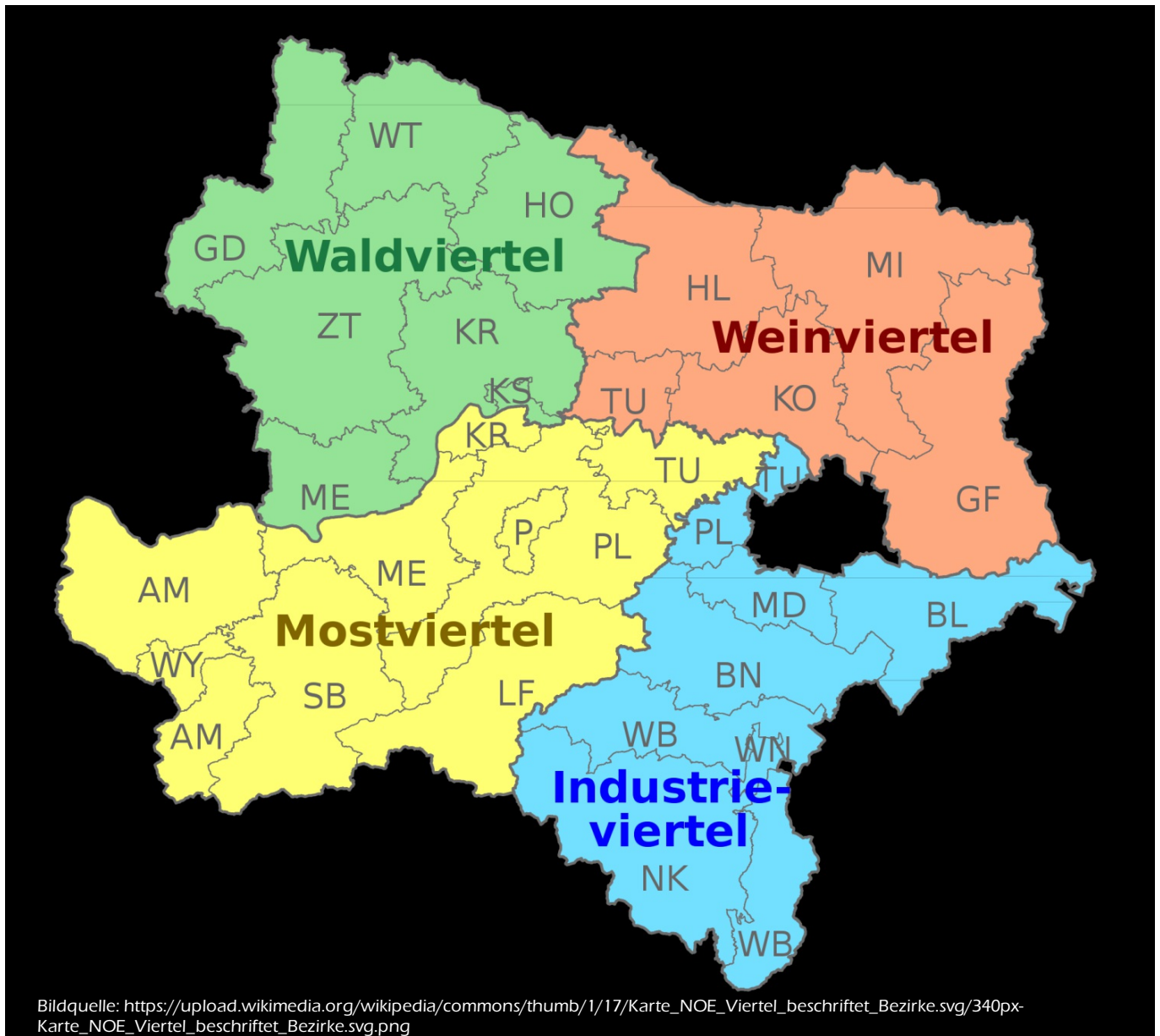
Mappe

Niederösterreich

Die 4 Viertel

www.lernfroschjindo.com






Dieses Viertel liegt im nordwestlichen Teil Niederösterreichs, nördlich der Donau und westlich des Manhartsbergs. Die wellige Hochfläche besteht aus Gneis und Granit.

Dieses Viertel liegt im nordöstlichen Teil Niederösterreichs, grenzt im Süden an die Donau und liegt östlich des Manhartsbergs. Das Hügelland ist besonders für den Weinanbau wichtig.

Dieses Viertel liegt im südwestlichen Teil Niederösterreichs und grenzt im Norden an die Donau und im Osten an den Wienerwald. Es setzt sich aus dem hügeligen Alpenvorland und den Kalkalpen zusammen.

Dieses Viertel liegt im Südöstlichen Teil Niederösterreichs und grenzt im Norden an die Donau und im Westen an den Wienerwald. Hier findet man viele Berge, das Wiener Becken und den Wienerwald.

Waldviertel



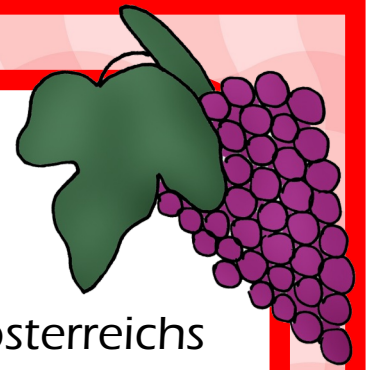
Lage: nordwestlicher Teil
Niederösterreichs

im Norden: Tschechien
im Osten: Manhartsberg
im Süden: Donau

Das Waldviertel besteht aus einer welligen Hochfläche. Es gehört zur böhmischen Masse, die aus Greis und Granit besteht.

Granit wird in Steinbrüchen gewonnen und anschließend verarbeitet. Große Granitblöcke findet man auf viele Wiesen, Feldern und in Wäldern. Sie sind rund und können oft mit geringer Kraft bewegt werden. Diese Steine nennt man **Wackelsteine**.

Weinviertel



Lage: nordöstlicher Teil Niederösterreichs

im Norden: Tschechien

im Osten: Slowakei

im Süden: Donau

im Westen: Manhartsberg

Das Weinviertel besteht aus 3
Landschaften:

Hügelland:

Hier findet man besonders fruchtbare Ackererde, die besonders wichtig für den Weinbau ist.

nördliches Tullnerfeld:

Das Gebiet entlang der Donau besteht aus Wiesen und Feldern.

Marchfeld:

Im südlichen Teil des Weinviertels ist es sehr feucht.

Industrieviertel



Lage: südöstlicher Teil Niederösterreichs

im Norden: Donau und Wien

im Osten: Burgenland

im Süden: Steiermark

im Westen: Mostviertel

Das Industrieviertel besteht aus 6 Landschaften:

Wiener Becken: Dieses Tiefland ist der Boden eines ehemaligen Meeres.

Bucklige Welt: ist ein Hügelland.

Wienerwald: ist ein Berg- und Waldgebiet.

Thermenregion: Das große Waldgebiet liegt bei Baden.

Rax und Schneeberg

Rosaliengebirge: bildet die Grenze zum Burgenland.

Mostviertel



Lage: südwestlicher Teil Niederösterreichs

im Norden: Donau

im Osten: Wienerwald

im Süden: Steiermark

im Westen: Oberösterreich

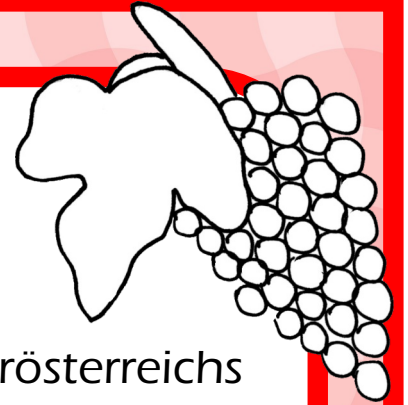
Das Mostviertel besteht aus 3
Landschaften

Alpenvorland: Dieses dichtbesiedelte
Hügelland bietet sehr fruchtbaren Boden.

Kalkalpen: In diesem großen Kalkgebirge
leben eher wenig Menschen.

Dunkelsteinerwald

Weinviertel



Lage: nordöstlicher Teil Niederösterreichs

im Norden: _____

im Osten: _____

im Süden: _____

im Westen: _____

Das Weinviertel besteht aus 3
Landschaften:

_____:

Hier findet man besonders fruchtbare
Ackererde, die besonders wichtig für den
Weinbau ist.

_____:

Das Gebiet entlang der Donau besteht aus
Wiesen und Feldern.

_____ - _____:

Im südlichen Teil des Weinviertels ist es sehr
feucht.

Mostviertel



Lage: südwestlicher Teil Niederösterreichs

im Norden: _____

im Osten: _____

im Süden: _____


im Westen: _____

Das Mostviertel besteht aus 3
Landschaften

_____ : Dieses
dichtbesiedelte Hügelland bietet sehr
fruchtbaren Boden.

_____ : In diesem großen
Kalkgebirge leben eher wenig Menschen.

Industrieviertel



Lage: südöstlicher Teil Niederösterreichs

im Norden: _____

im Osten: _____

im Süden: _____

im Westen: _____

Das Industrieviertel besteht aus 6
Landschaften:

_____ : Dieses Tiefland
ist der Boden eines ehemaligen Meeres.


_____ : ist ein Hügelland.

_____ : ist ein Berg- und Waldgebiet.

_____ : Das große
Waldgebiet liegt bei Baden.

_____ : bildet die Grenze
zum Burgenland.

Waldviertel



Lage: nordwestlicher Teil
Niederösterreichs

im Norden: _____
im Osten: _____
im Süden: _____

Das Waldviertel besteht aus einer
_____. Es gehört
zur böhmischen Masse, die aus _____
und _____ besteht.

Granit wird in _____
gewonnen und anschließend
verarbeitet. Große _____
findet man auf viele Wiesen, Feldern
und in Wäldern. Sie sind rund und
können oft mit _____
Kraft bewegt werden. Diese Steine
nennt man _____.